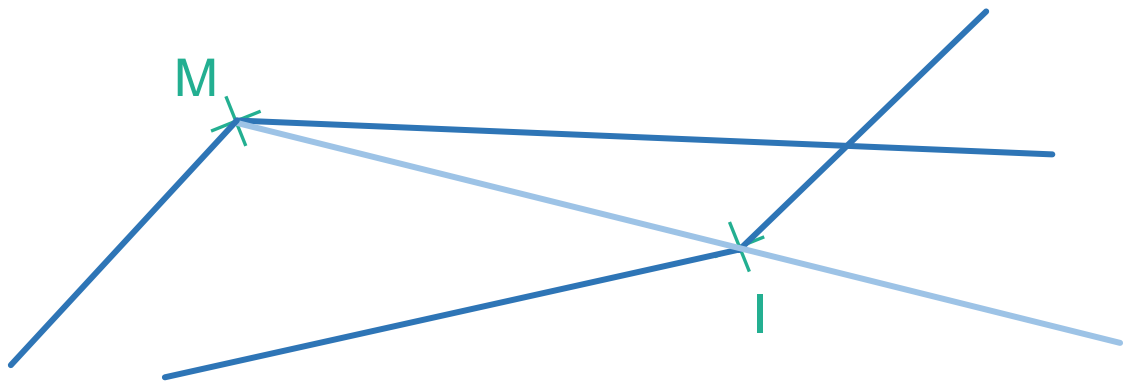
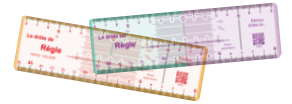
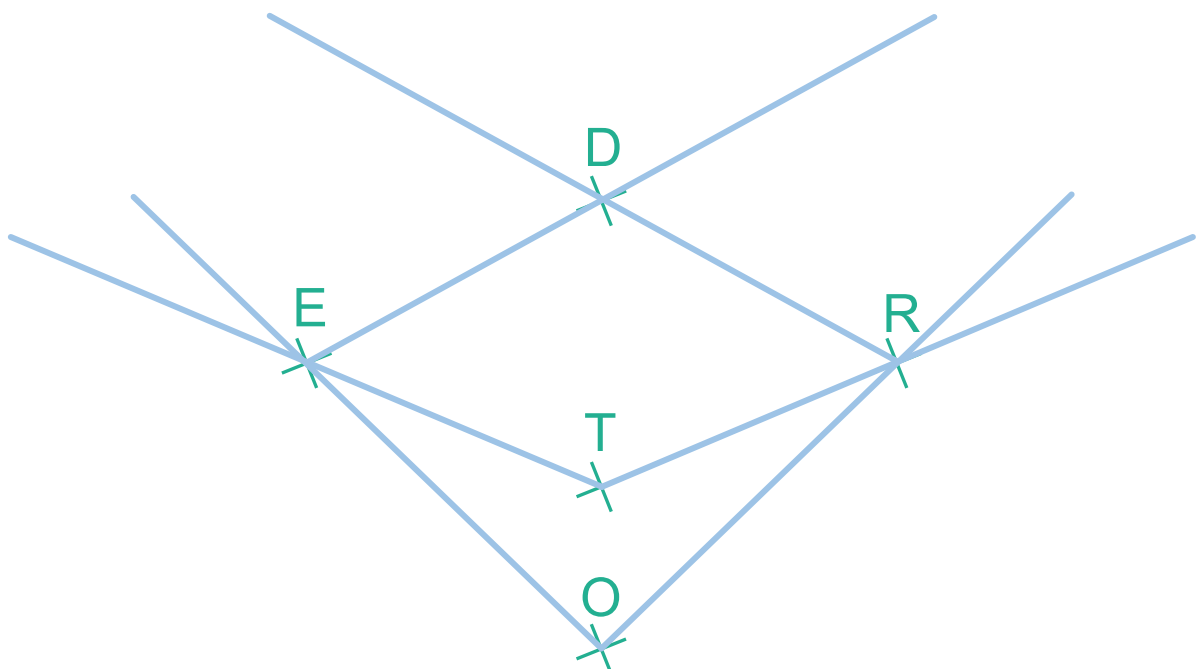


TRACER une DEMI-DROITE

1 – À l'aide de la Drôle de Règle, trace deux demi-droites issues du point I, puis deux demi-droites issues du point M, puis une demi-droite issue du point M passant par I.



2 – Trace deux demi-droites issues de O, l'une passant par E, l'autre par R, puis deux demi-droites issues de T, l'une passant par E, l'autre par R, puis deux demi-droites passant par D, l'une issue de E, l'autre de R.



Droits de reproduction accordés aux professeurs, dans le cadre de leurs activités de classe. Modification non autorisée.



Aide en ligne



Corrigé en ligne