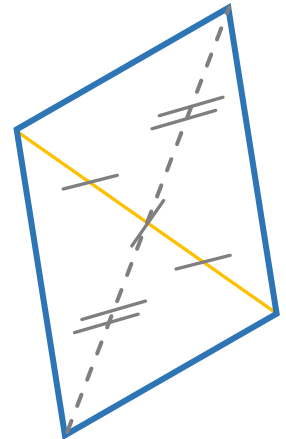
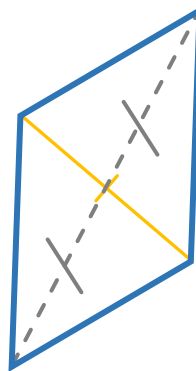
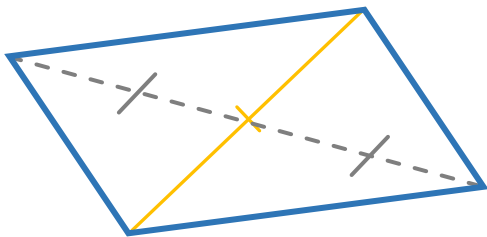
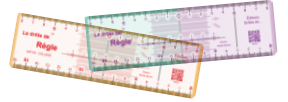


**CONSTRUIRE un PARALLÉLOGRAMME par ses DIAGONALES**

**1 – À l'aide de la Drôle de Règle, construis des parallélogrammes dont une ou deux diagonales sont tracées ci-dessous.**



**2 – Construis deux parallélogrammes de diagonales 3,5cm et 5cm, puis 4cm et 5cm.**

