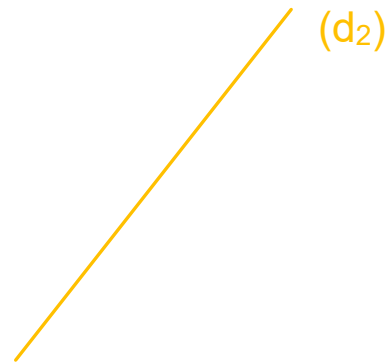
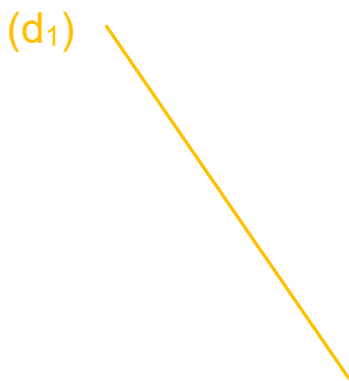

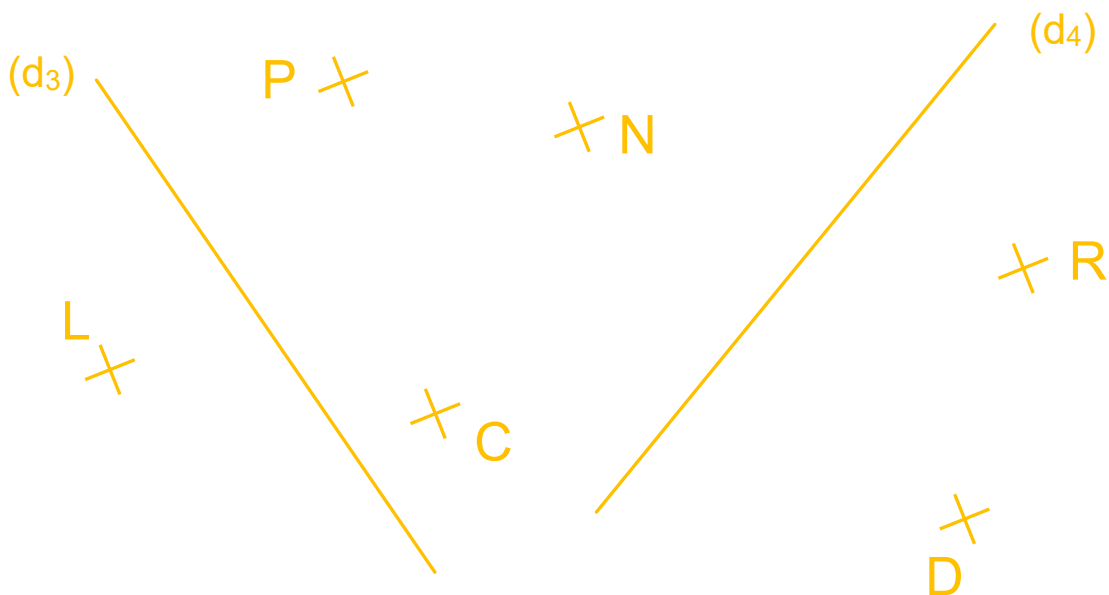


**CONSTRUIRE une DROITE PERPENDICULAIRE à une autre**

**1 – À l'aide de la Drôle de Règle, trace deux droites perpendiculaires à la droite  $(d_1)$ , puis trois droites perpendiculaires à la droite  $(d_2)$ .**



**2 - Trace les droites perpendiculaires à la droite  $(d_3)$  passant par P, puis par L, puis par N, puis par C.**  
**Trace les droites perpendiculaires à la droite  $(d_4)$  passant par R, puis par N, puis par D, puis par P.**



*Droits de reproduction accordés aux professeurs, dans le cadre de leurs activités de classe. Modification non autorisée.*



Aide en ligne



Corrigé en ligne