
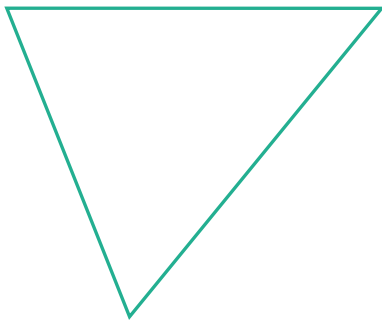



CONSTRUIRE les BISSECTRICES dans un TRIANGLE

1 – À l'aide de la Drôle de Règle, construis les trois bissectrices des triangles ci-dessous.



2 – Construis les trois bissectrices des triangles ci-dessous.

