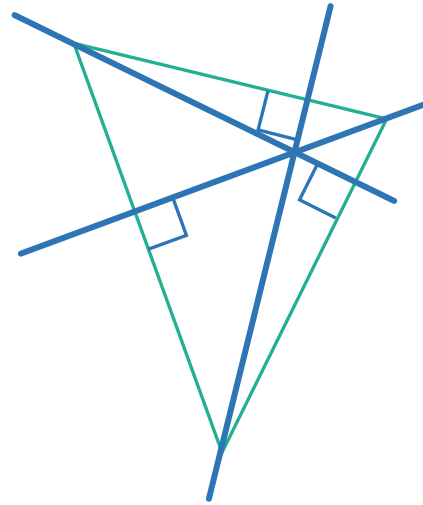
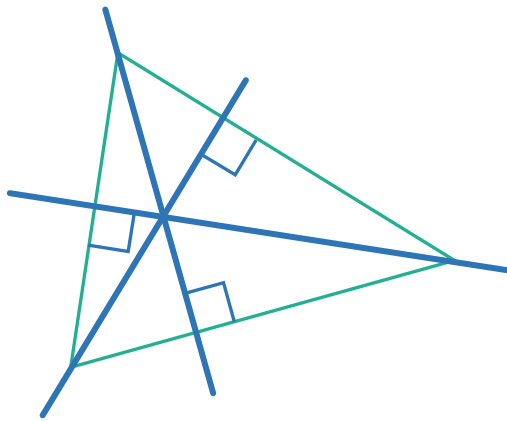
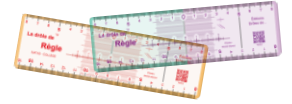


**CONSTRUIRE les HAUTEURS dans un TRIANGLE**

**1 – À l'aide de la Drôle de Règle, construis les trois hauteurs dans chacun des triangles ci-dessous.**



**2 – Construis les trois hauteurs dans chacun des triangles ci-dessous.**

