
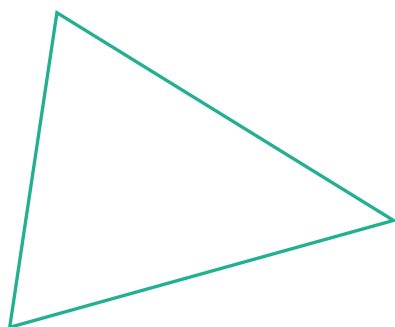
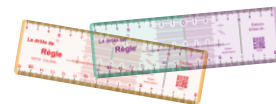


**CONSTRUIRE les MÉDIANES dans un TRIANGLE**

**1 – À l'aide de la Drôle de Règle, construis les trois médianes dans chacun des triangles ci-dessous.**



**2 – Construis les trois médianes dans chacun des triangles ci-dessous.**

