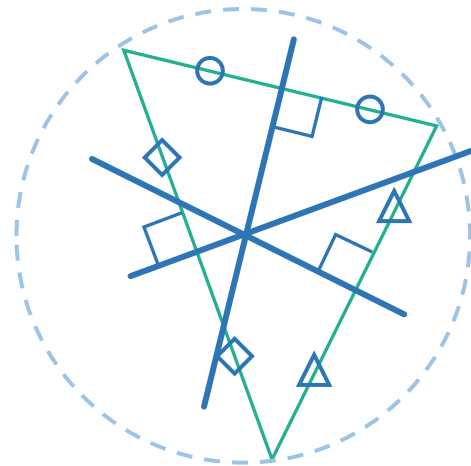
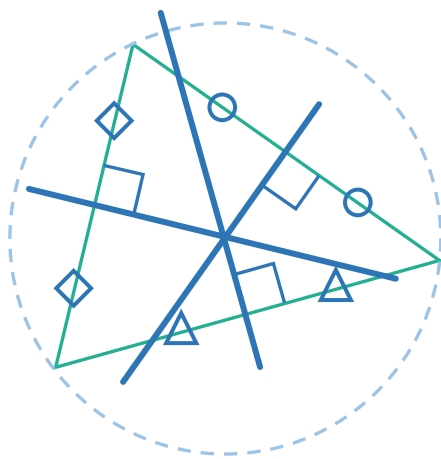
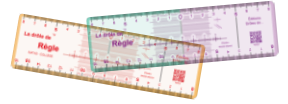


CONSTRUIRE les MÉDIATRICES dans un TRIANGLE

1 – À l'aide de la Drôle de Règle, construis les trois médiatrices des triangles ci-dessous.



2 – Construis les trois médiatrices des triangles ci-dessous.

